

“Benedikto Turgaus” mįslės

1 Tyrinėtojas:

Nupiešk save >

Vardas: _____

Klasė: _____

Slapyvardis: _____

2 Pasidomėk to paties produkto kainų skirtumais.

Kaina:

1. _____
2. _____
3. _____
4. _____

Kodėl kaina skiriasi?

_____ Koks tai produktas?

3 Turgaus matematikos iššūkis.

Užduotys:


?



Kaina: _____



Kaina: _____



Kaina: _____

Kiek kainuos 2 obuoliai ir duona? _____

Kiek kainuos duona ir sūris? _____

Kiek kainuos 2 sūriai? _____

Turi _____ eurų. Ką gali nusipirkti?

4 Interviu.

Pardavėjo vardas: _____

Kiek laiko dirba?

Iš kur atvežti produktai?

Kuris populiariausias?

5 Rask po kelis skirtingų šalių produktus

Italija



Prancūzija



Ispanija



Turkija








Lietuva





Sakartvelas



6 Rask šias vietas “Benedikto turguje”:




7 Kurie maisto produktai genda greičiausiai, o kurie turi ilgiausią galiojimo terminą? (Prie produkto įrašyk raides A, B arba C).



BINGO!

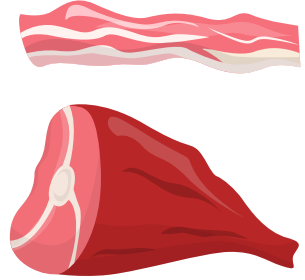
Rask šiuos maisto produktus:




Pomidorai




Alyvuogės



Rūkyta mėsa



Kiaušiniai



Pelėsinis sūris



Pyragas



Jūros gėrybės



Kava



Pica

Ką labiausiai mėgsti?

Maisto kelias.



Duona



>



>



1.

2.

3.



Sūris



>



>



1.

2.

3.



Medus



>



>



1.



2.

3.





Kas kur auga? Sujunk linijomis.



Ant medžių



Ant krūmų



Žemėje

